

**Kitabın Adı**

**Yeni Nesil Problem Yok - 1**

**978-605-7911-44-5**

**Yazar  
Komisyon**

**Editör  
Elif NEMUTLU  
Nursu NEMUTLU ÖZTÜRK**

**Yayın Yönetmeni  
Nebi NEMUTLU**

**Dizgi Grafik Tasarımı  
Yasemin IŞIK**

**Mutlu Yayıncılık San. ve Tic. Ltd. Şti.  
www.e-mutlu.com**

**Yayıncı Sertifika No.  
10628**


**WPC Matbaacılık Sanayi ve Ticaret A.Ş.  
Osmangazi Mah. Mehmet Kopuz Sok.  
No.: 17/1 Kıraç - Esenyurt  
İSTANBUL**

**Matbaa Sertifika No.  
35428**

**İstanbul, 2020**



**MUTLU  
YAYINCILIK**



**Her hakkı ©Mutlu Yayıncılık'a aittir.  
Kısmen de olsa alıntı yapılamaz. Metin, soru,  
şekil ve grafikler, ELEKTRONİK, mekanik,  
FOTOKOPİ ya da herhangi bir kayıt sistemiyle  
çoğaltılamaz, yayımlanamaz.**

Problem Nu.	İÇİNDEKİLER	Sayfa Nu.
1	Dondurma Sırası	4
2	Oku - Anla - Çöz	5
3	Bir Cumartesi Günü	6
4	Oku - Anla - Çöz	7
Yeni Tarz Soru 1 - Tatlı Diyarı Dondurma Dükkânı		8
5	Hayvanat Bahçesi	10
6	Oku - Anla - Çöz	11
7	Bizim Terzi	12
8	Oku - Anla - Çöz	13
9	Dart Oynuyoruz	14
10	Oku - Anla - Çöz	15
11	Çağla'nın Erikleri	16
12	Oku - Anla - Çöz	17
Yeni Tarz Soru 2 - Sevimli Köpek Kuçu		18
13	Çiçek Demeti	20
14	Oku - Anla - Çöz	21
15	Karpuz Var!	22
16	Oku - Anla - Çöz	23
17	Renkli Kutucuklar	24
18	Oku - Anla - Çöz	25
19	Selin'in Kumbarası	26
20	Oku - Anla - Çöz	27
Yeni Tarz Soru 3 - Renkli Kartlar		28
21	Marketteyiz	30
22	Oku - Anla - Çöz	31
23	Minibüsle Yolculuk	32
24	Oku - Anla - Çöz	33
25	Kumsaldayız	34
26	Oku - Anla - Çöz	35
27	Kırtasiyedeyiz	36
28	Oku - Anla - Çöz	37


Problem Nu.		Sayfa Nu.
Yeni Tarz Soru 4 - Örüntü Yapalım		38
29	Kuşlar	40
30	Oku - Anla - Çöz	41
31	Küresteki Hayvanlar	42
32	Oku - Anla - Çöz	43
33	Geometrik Şekiller	44
34	Oku - Anla - Çöz	45
35	Kolye Yapıyoruz	46
36	Oku - Anla - Çöz	47
Yeni Tarz Soru 5 - Ritmik Sayalım		48
37	Mutlu Kırtasiye	50
38	Oku - Anla - Çöz	51
39	Oyun Kartları	52
40	Oku - Anla - Çöz	53
Yeni Tarz Soru 6 - Hazine Sandığı		54
41	Balonlarım Var	56
42	Oku - Anla - Çöz	57
43	Ağaçtaki Kuşlar	58
44	Oku - Anla - Çöz	59
45	Doğum Günü	60
46	Oku - Anla - Çöz	61
47	Daire Sayısı	62
48	Oku - Anla - Çöz	63
Yeni Tarz Soru 7 - Kalemler		64
49	Köyde Yaşam	66
50	Oku - Anla - Çöz	67
51	Resim Çantam	68
52	Oku - Anla - Çöz	69
53	Oyun Oynuyoruz	70
54	Oku - Anla - Çöz	71
55	Ağaçlar	72
56	Oku - Anla - Çöz	73

Problem Nu.		Sayfa Nu.
	Yeni Tarz Soru 8 - Şekil Çizelim - Keselim	74
57	Oyuncaklarım	76
58	Oku - Anla - Çöz	77
59	Misket Oynayalım	78
60	Oku - Anla - Çöz	79
61	Parktayız	80
62	Oku - Anla - Çöz	81
63	Kaç Ekmek?	82
64	Oku - Anla - Çöz	83
	Yeni Tarz Soru 9 - İşlem Yapalım	84
65	Meyveler	86
66	Oku - Anla - Çöz	87
67	Okulumuz	88
68	Oku - Anla - Çöz	89
69	Yıldızlar Geçidi	90
70	Oku - Anla - Çöz	91
71	Göldeki Balıklar	92
72	Oku - Anla - Çöz	93
73	Alışverişteyiz	94
74	Oku - Anla - Çöz	95
75	Defterlerim	96
76	Oku - Anla - Çöz	97
	Yeni Tarz Soru 10 - Renkli Toplar	98
77	Pazara Gidelim	100
78	Oku - Anla - Çöz	101
79	Meyveler	102
80	Oku - Anla - Çöz	103
81	Ormandaki Hayvanlar	104
82	Oku - Anla - Çöz	105
83	Marketteyiz	106
84	Oku - Anla - Çöz	107
	Yeni Tarz Soru 11 - Toplama Yapalım	108

Problem Nu.		Sayfa Nu.
85	Kurabiyeler	110
86	Oku - Anla - Çöz	111
87	Mesafeler	112
88	Oku - Anla - Çöz	113
89	Sınıftayız	114
90	Oku - Anla - Çöz	115
91	Yemek Yapalım	116
92	Oku - Anla - Çöz	117
	Yeni Tarz Soru 12 - Yaprakları Sayalım	118
93	Renkli Balıklar	120
94	Oku - Anla - Çöz	121
95	Hayvanları Sayalım	122
96	Oku - Anla - Çöz	123
97	Ocak Ayı	124
98	Oku - Anla - Çöz	125
	Yeni Tarz Soru 13 - Kitap Türleri	126
	Yeni Tarz Soru 14 - Sevilen Meyve Suları	127
99	Kırtasiyeye Gidelim	128
100	Oku - Anla - Çöz	129
101	Problem Çözelim - 1	130
102	Oku - Anla - Çöz	131
	Yeni Tarz Soru 15 - Dondurma Çeşitleri	132
	Yeni Tarz Soru 16 - Tabaktaki Bisküviler	133
103	Problem Çözelim - 2	134
104	Oku - Anla - Çöz	135
105	Problem Çözelim - 3	136
106	Oku - Anla - Çöz	137
107	Problem Çözelim - 4	138
108	Oku - Anla - Çöz	139
109	Problem Çözelim - 5	140
110	Oku - Anla - Çöz	141
	Problem Yanıtları	142



## DONDURMA SIRASI



Çiçek Apartmanı'nda yaşayan çocuklar, dondurma arabasının geldiğini duyunca çok heyecanlandılar. Ailelerinden harçlık alıp bahçeye indiler. Sonra dondurma almak için sıraya girip beklemeye başladılar.

Sıraya giren çocukları gösteren resmi inceleyiniz. Bu resimden faydalanarak soruları yanıtlayınız.



1 Dondurma sırasında kaç çocuk vardır?

2 Sıradaki erkek çocukların sayısı kız çocuklardan kaç fazladır?

3 Sırada 6 çocuk daha olsaydı, sırada toplam kaç çocuk olurdu?

4 4 çocuk dondurmasını alıp giderse, sıradaki çocuk sayısı 12'den kaç eksik olur?

5 Resimdeki çocukların hepsi 1 top dondurma almıştır. 1 top dondurma 2 TL'dir. Dondurmacı sıradaki çocuklardan kaç lira kazanmıştır?

6 Sıradaki 3 çocuk dondurma alıp sıradan çıkmıştır. Sıraya 6 kişi daha gelmiştir. Sıradaki yeni kişi sayısı kaçtır?




## BİR CUMARTESİ GÜNÜ



Seda cumartesi gününü şöyle planlıyor:

- 9 saat uyku
- 3 saat ders çalışma
- 2 saat oyun oynama
- Toplam 1 saat yemek
- 2 saat televizyon izleme
- 7 saat diğer işler



1 Seda cumartesi günü, oyun ve diğer işleri için kaç saat ayırmıştır?

3 Seda ders çalışma, oyun ve yemek için toplam kaç saat zaman ayırmıştır?

2 Seda'nın uykuda geçirdiği zaman, televizyon izlediği zamandan kaç saat fazladır?

4 Seda diğer işleri için ayırdığı zamanın 2 saatinde de oyun oynarsa, oyun ve ders için kaç saat zamanı olur?



1 Defne'nin 8 boncuğu vardı. 5 boncuk da ablası verdi. Defne'nin kaç boncuğu oldu?

2 Ayşe 7 yaşındadır. Ablası Ayşe'den 3 yaş büyüktür. Ayşe'nin ablası kaç yaşındadır?

3 Ali, Aslı'ya 4 TL verseydi, Aslı'nın 10 TL'si olacaktı. Buna göre Aslı'nın kaç lirası vardı?

4 12 boya kalemimin 6 tanesi kayboldu. Kalan kalemlerim 5'ten kaç fazladır?

5 12 ile hangi sayıyı toplarsam 19 sayısını bulurum?

6 3 fazlası 7 olan sayının, 8 fazlası kaçtır?




- ✓ Okuma - Anlama
- ✓ Bilgi - Uygulama
- ✓ Akıl Yürütme
- ✓ Strateji Geliştirme
- ✓ Tablo, Grafik Okuma
- ✓ Tablo, Grafik Yorumlama
- ✓ Deneme, Yanılma

## Tatlı Diyarı Dondurma Dükkânı

ADIM 1  
KÜLAH SEÇ

$17 - 5$



$9 - 6$

ADIM 2  
DONDURMA SEÇ

$11 + 8$



$2 + 8$



$13 + 3$

ADIM 3  
SÜSLEME SEÇ

$5 - 0$



$14 - 3$



$11 - 1$



Tatlı Diyarı Dondurma Dükkânı, lezzetli dondurmalar satan bir dükkândır. Burada müşteriler kendi külahlarını, dondurmalarını ve süslemelerini seçerler. Böylece tam da istedikleri gibi dondurmalar oluştururlar.





1 Tatlı Diyarı Dondurma Dükkânı'na gelen Defne, kendine bir dondurma alıyor. Defne'nin oluşturduğu dondurmayla ilgili verilen bilgileri inceleyiniz.

- Kûlahın üzerindeki işlemin sonucu iki basamaklı değildir.
- Defne üzerinde en büyük sayı olan dondurmayı seçmiştir.
- Defne'nin seçtiği süslemenin birler basamağında 5 rakamı vardır.

Hangisi Defne'nin aldığı dondurmadır?

A)



B)



C)



2 Aşağıdaki yönergeleri takip ederek bir dondurma da siz oluşturun. Oluşturduğunuz dondurmayı seçeneklerden bulup işaretleyin.

- Sonucu 10'dan büyük olan kûlahı seç.
- Sonucu "1 + 9" işleminin sonucu ile aynı olan dondurmayı seç.
- Sonucunun birler basamağında 0 olan süslemeyi seç.

A)



B)




C)

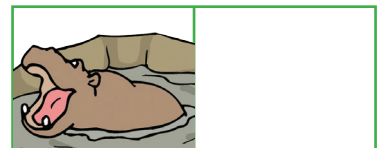

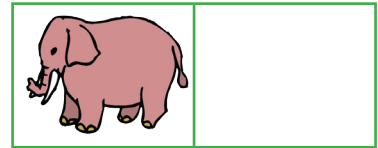






## HAYVANAT BAHÇESİ



Hayvanat bahçesindeki hayvan bakıcısı, burada yaşayan hayvanları sayacaktır. Verilen resmi inceleyiniz. Bu resimden yararlanarak aşağıdaki hayvanların toplam sayılarını karşlarına yazınız. Bulduğunuz sayıları kullanarak soruları çözünüz.





1 Maymunların sayısı, zürafalardan kaç fazladır?

2 Hayvanat bahçesinde toplam kaç hayvan vardır?

3 Fillerle aslanların toplam sayısı kaçtır?

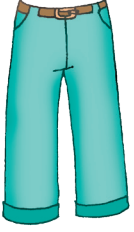
4 3 aslan, 2 zürafa ve 5 maymun bakım merkezine götürülürse, hayvanat bahçesinde kaç hayvan kalır?

5 Dişi maymunların sayısı erkek maymunların sayısından 1 eksiktir. Kaç tane erkek maymun vardır?

6 Fil ve aslan sayıları toplamı, ayıların sayısından ne kadar fazladır?



## BİZİM TERZİ



Bir terzi 19 metre kumaş aldı. Bu kumaşın;

- 3 metresiyle bir tane elbise
- 5 metresiyle bir tane takım elbise
- 1 metresiyle 2 tane etek
- 2 metresiyle bir tane pantolon dikti.



1 Terzinin kaç metre kumaşı kalır?

3 Terzi iki tane etek yerine 4 tane etek dikseydi kaç metre kumaşı kalırdı?

2 Terzi kalan kumaşla bir elbise daha dikerse toplam kaç metre kumaş kullanmış olur?

4 Terzi, etek ve elbise için kaç metre kumaş kullanmıştır?



1 Melis, 19 fidanın 8 tanesini suladı. Melis'in sulamadığı kaç fidan kaldı?

2 Hande salı günü 7, çarşamba günü 6 sayfa kitap okudu. Kitabı 16 sayfa olduğuna göre okunacak kaç sayfası kalmıştır?

3 Gökçe 7 yaşındadır. 5 yıl sonra Gökçe'nin yaşı kaç olur?


4 1 onluk 2 birlikten oluşan sayının 7 fazlası kaçtır?

5 Cebimde 9 TL vardı. 3 TL'ye kalem, 2 TL'ye silgi aldım. Kaç lira param kaldı?

6 15 tane kalemim var. Bunların 2 tanesi kırmızı kalem, kalanlar kurşun kalem. Kaç tane kurşun kalemim vardır?



## DART OYNUYORUZ



Yuvarlak şeklindeki tahtaya ok atılarak oynanan oyuna dart denir. Arkadaş olan Can, Ayşe, Gizem, Ahmet ve Melike dart oynamaktadır. Çocukların isimlerinin karşısında kaç puan aldıkları verilmiştir. Puanları inceleyip soruları yanıtlayınız.

İsim	Aldığı Puan
Can	8
Ayşe	12
Gizem	6
Ahmet	15
Melike	10



1 En çok puanı alan birinci olmuştur. Buna göre birinci kimdir?

2 Melike, Can'dan kaç puan fazla almıştır?

3 En az puanı alan iki kişinin puanları toplamı kaçtır?

4 Ayşe 3 puan daha alsaydı puanı kiminle aynı olurdu?

5 Melike kaçinci olmuştur?

6 Can kaç puan daha alsaydı, Ahmet'le aynı puanı alırdı?